

Der Wolf / wilk

1. Aufwärmung / Rogrzewka

Welches dieser der Tiere ist der Wolf?
Który z tych trzech zwierzaków to wilk?



2. Nennen Sie 3 Unterschiede zwischen einem Hund und einem Wolf.
Podaj trzy różnice pomiędzy psami i wilkami.

- a) _____
- b) _____
- c) _____

3. In diesem Rätsel versteckt sich das Futter eines Wolfes. Finde 7 Begriffe.

A	L	R	F	Z	T	H	Z	B
T	G	U	E	C	W	Ö	X	R
E	T	Ö	L	M	D	V	Y	U
U	Ö	U	D	U	U	T	L	E
I	W	Ü	H	L	M	A	U	S
Y	I	E	A	C	R	Z	T	C
H	L	S	S	R	S	Y	R	H
R	D	T	E	M	L	I	U	A
X	S	I	M	D	R	U	G	F
W	C	W	E	L	F	S	Z	X
Z	H	Z	T	R	E	H	E	Z
R	W	Y	U	U	L	I	W	I
U	E	D	R	L	C	D	U	G
H	I	R	S	C	H	S	C	T
S	N	Z	X	V	R	Ö	E	C

W łamigłówce ukrył się pokarm wilków. Znajdź 7 pojęć.

W	R	S	Z	D	F	D	H	L	I	A
F	S	A	O	Z	I	W	R	Z	H	D
N	O	R	N	I	K	O	W	A	T	E
D	L	N	W	K	H	W	O	J	C	R
H	F	A	R	T	Z	C	L	Ą	W	F
J	E	L	E	Ń	R	A	H	C	O	Z
L	W	I	Ł	O	Ś	D	C	F	B	H
I	Z	O	H	W	F	R	I	M	L	D

4. Welche Fußspur ist von unseren Wölfen? Nenne auch die anderen Tierarten unter den Fußspuren.

Który ślad łap należy do naszych wilków? Dopasuj również inne zwierzęta do ich śladów.



5. Ordne das Verhalten zu den Schwanzpositionen zu.
Przyporządkuj zachowanie do pozycji ogona.

Dominant – je höher die Rute getragen wird, desto sicherer ist die Rolle des Tieres im Rudel.

Angriffslust – anfängliche Angst wandelt sich in Drohen und Angriffsbereitschaft.

Demut – der Wolf signalisiert, dass er sich bereitwillig unterordnen wird und nicht kämpfen will.


Angst – die zwischen den Hinterbeinen eingeklemmte Rute ist ein deutliches Signal völliger Unterwürfigkeit aus Angst.

Dominujący - im wyżej noszony jest ogon, tym pewniejsza jest rola zwierzęcia w stadzie.

Agresywny - początkowy strach przeradza się w zagrożenie i gotowość do ataku.

Pokora - wilk sygnalizuje, że chętnie się podporządkuje, a nie chce nie chce walczyć.

Strach - ogon schowany między tylnymi nogami jest wyraźnym sygnałem całkowitej uległości, wynikający ze strachu.











6. Ergänze den Stammbaum. Benenne die Mitglieder der Hunde-Familie.
Uzupełnij drzewo geneologiczne. Nazwij poszczególnych członków rodziny psowatych.

DE: Waldhund, Afrikanischer Wildhund, Löffelhund, Rothund, Mähnenwolf, Fuchs, Schakal, Fennek, Marderhund, Kojote

PL: szakal, fenek, kojot, pakożer leśny (pies leśny), likaon pstry, otacjon wielkouchy, cyjon rudy, pampasowiec grzywiasty (wilk grzywiasty), lis, jenot azjatycki





7. Was gehört zusammen? Verbinde die richtigen Sprechblasen mit Pfeilen.

Wölfe besitzen eine ausgezeichnete ...

45 – 50 km

250 °

Wölfe können auf Distanz von bis zu km hören.

Wölfe haben einen Blickwinkel von ...

9 km

Nachtsichtigkeit

2,5 km

Ein Wolf kann ein Tier auf eine Entfernung von bis zu ... km riechen.

60 km

Wölfe laufen mit einer Spitzengeschwindigkeit von ...

Wölfe unternehmen Streifzüge von

Co do siebie pasuje? Połącz chmurki w pary za pomocą strzałek.

Wilki mogą
doskonale ...

45-50km

250 °

Widzieć
w nocy

Wilki mają kąt
widzenia ..

Wilki słyszą
na odległość
do ... km

9 km

Wilki biegają z
maksymalną
prędkością ...

2,5 km

Wilki podejmują
nocne wędrówki
do ... km

Wilk potrafi wyczuć
zwierzę na
odległość ... km

60 km